

Exercice 9

Compétence :	Reproduire un assemblage.
---------------------	---------------------------

Activité :	Entourer la forme géométrique qui correspond à l'assemblage d'une paire de formes.
-------------------	--

Consignes de passation :	pages 29 - 33	 2 minutes 40
---------------------------------	---------------	--

[Écrire au tableau ou projeter l'exemple.]

« Dans cet exercice :

[Montrer aux élèves les deux formes de l'exemple.] *Observez les deux formes en haut.*

Quand on assemble ces deux formes, on obtient une autre forme.

Pour répondre, entourez la forme que l'on obtient en assemblant ces deux formes.

Nous allons faire un exemple ensemble.

Mettez votre doigt sur le rond noir.

Dans le petit cadre : observez les deux formes à assembler.

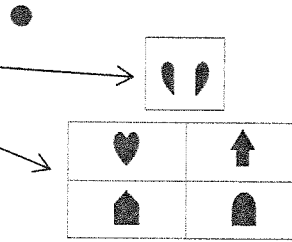
[Le montrer aux élèves.]

Quatre formes sont juste en dessous. [Les montrer aux élèves.]

Entourez la forme que l'on obtient en assemblant les deux formes situées en haut.

On obtient un cœur. Il fallait donc entourer le cœur. »









[Entourez la forme sur l'exemple projeté ou dessiné au tableau, sans fournir aucune explication.]



« Maintenant que vous avez compris, nous allons continuer. Pour vous repérer dans l'exercice, je vais vous dire le symbole qui correspond à la bonne page. Je vais vous laisser du temps pour entourer la réponse.

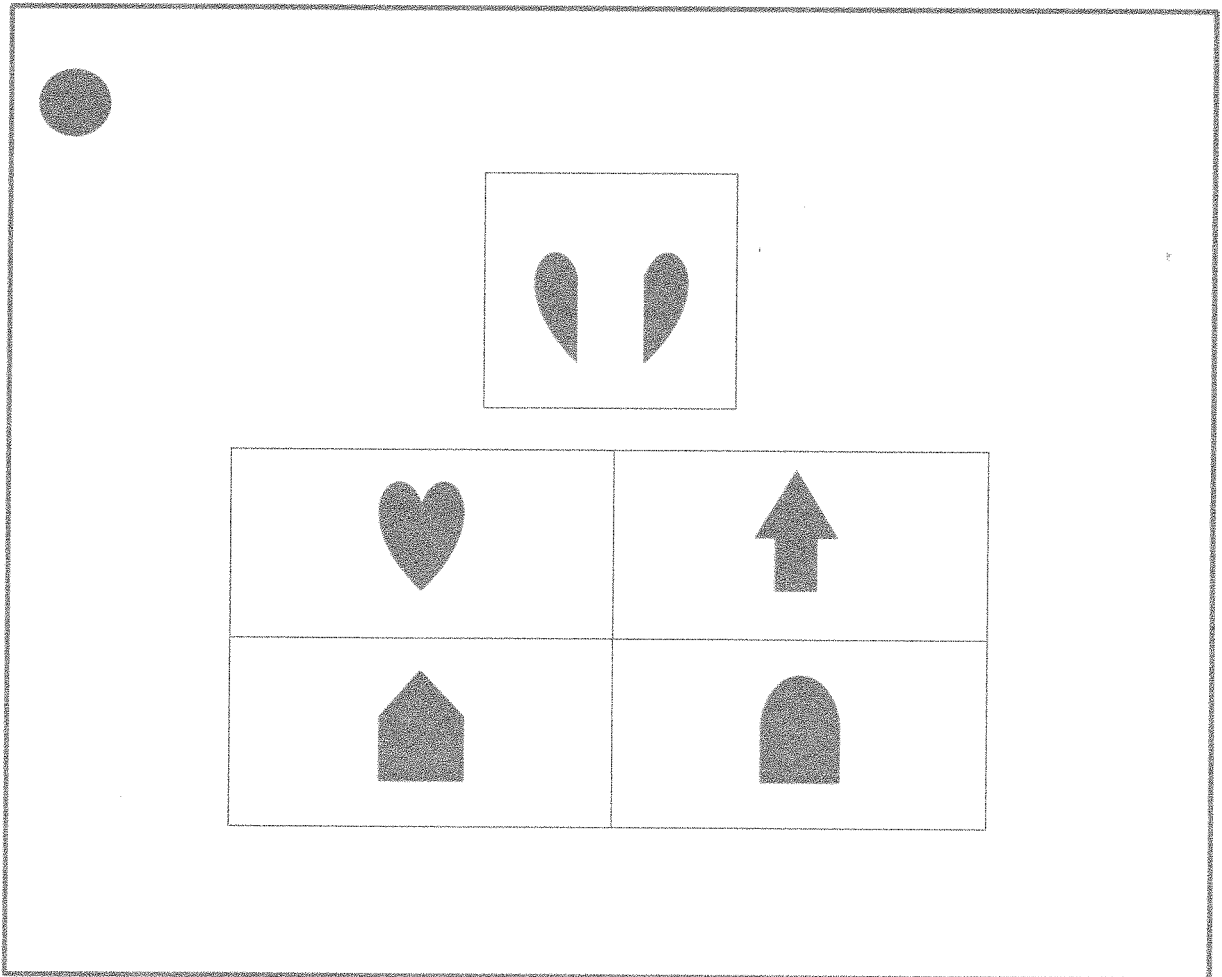
Tournez la page, vous êtes à la page 30. Mettez votre doigt sur le rond blanc. Ecoutez bien. Entourez la forme que l'on obtient en assemblant ces deux formes. »

[Procéder de la même façon pour les symboles suivants.]

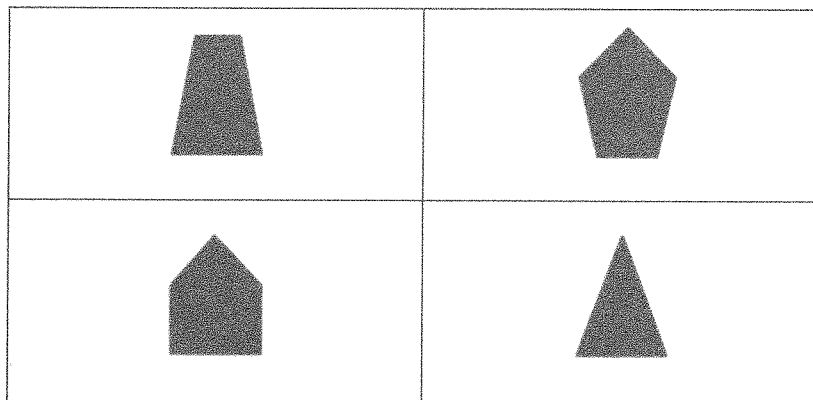

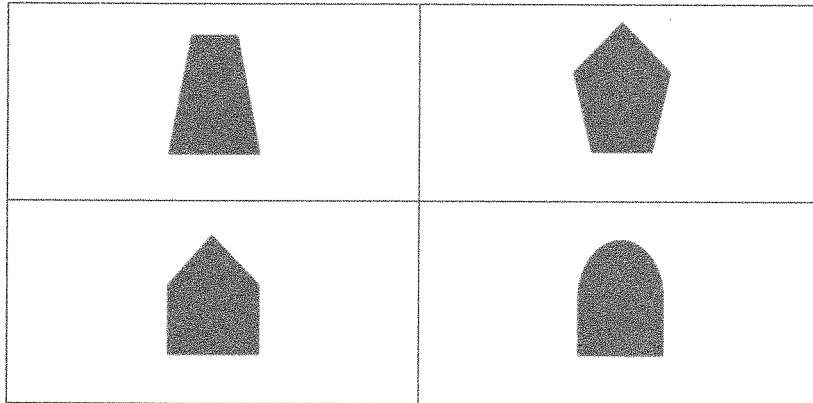

Page	Mettez votre doigt sur ...	[Laisser 20 secondes pour chaque item.]
30		Entourez la forme que l'on obtient en assemblant ces deux formes.
		
31		
		
32		
		
33		
		

« Bravo, vous avez terminé. » [Ramasser les cahiers.]

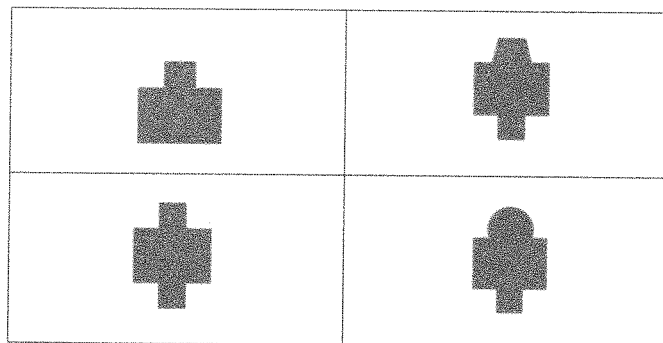

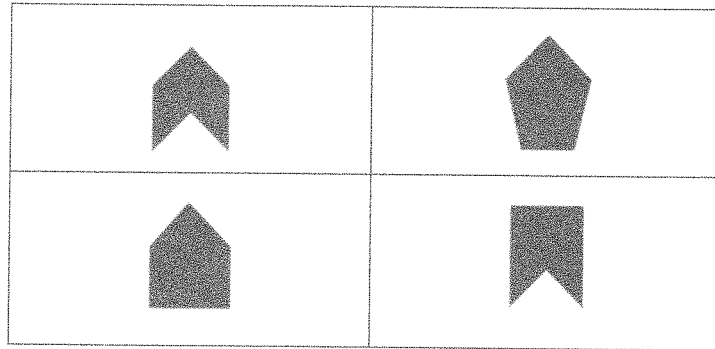

Exercice 9






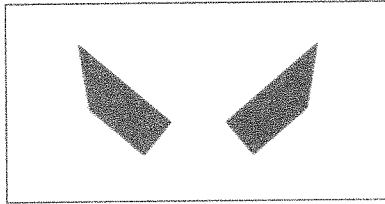
Exercice 9 (suite)



Exercice 9 (suite)



Exercice 9 (suite)



Exercice 9 (suite)

