

## Exercice 7

**Compétence :** Quantifier des collections jusqu'à 10 au moins.

**Activité :** Entourer le nombre qui correspond au nombre de balles dans un panier.

**Consignes de passation :**

pages 24 - 26



2 minutes

« Comptez les balles dans le panier.  
Pour répondre, entourez ce nombre dans la ligne.

Nous allons faire un exemple ensemble.  
Mettez votre doigt sur le dessin du rond noir.

[Ecrire ou projeter l'exemple au tableau.]



1	2	3	4	5	6	7	8	9	10
---	---	---	---	---	---	---	---	---	----

Comptez le nombre de balles dans le panier. Puis entourez ce nombre dans la ligne en-dessous.  
[Laisser 10 secondes.] La réponse est 3. [Entourer au tableau.] Il y a 3 balles dans le panier.

Maintenant que vous avez compris, nous allons continuer ensemble. »

[Procéder de la même façon pour les dénombrements suivants.]

Page	Mettez votre doigt sur ...	[Répéter la consigne.]
24		
25		« Comptez le nombre de balles dans le panier. Puis entourez ce nombre dans la ligne en-dessous. Allez-y. »
26		[Laisser 10 secondes.]

« Poursuivez, vous êtes à la page 24.


Tournez la page, vous êtes à la page 25.


Allez à la page suivante, vous êtes à la page 26. »

« L'exercice est terminé. Tournez la page, vous êtes à la page 27. »

## Exercice 7


---






1	2	3	4	5	6	7	8	9	10
---	---	---	---	---	---	---	---	---	----


---






1	2	3	4	5	6	7	8	9	10
---	---	---	---	---	---	---	---	---	----

---





1	2	3	4	5	6	7	8	9	10
---	---	---	---	---	---	---	---	---	----


## Exercice 7 (suite)



1	2	3	4	5	6	7	8	9	10
---	---	---	---	---	---	---	---	---	----



1	2	3	4	5	6	7	8	9	10
---	---	---	---	---	---	---	---	---	----



1	2	3	4	5	6	7	8	9	10
---	---	---	---	---	---	---	---	---	----

## Exercice 7 (suite)



1	2	3	4	5	6	7	8	9	10
---	---	---	---	---	---	---	---	---	----



1	2	3	4	5	6	7	8	9	10
---	---	---	---	---	---	---	---	---	----



1	2	3	4	5	6	7	8	9	10
---	---	---	---	---	---	---	---	---	----