













Exercice 5

Compétence :	Lire des nombres entiers jusqu'à 10.							
Activité :	Associer les noms des nombres à leur écriture chiffrée.							
Consignes de passation :	pages 19 - 20	 1 minute 40						
<p>« Je vais vous dire un nombre. Entourez ce nombre dans la ligne.</p> <p>[Ecrire ou projeter l'exemple au tableau.]</p> <div style="text-align: center;">  <table border="1" style="display: inline-table; border-collapse: collapse;"> <tr> <td style="padding: 5px 10px;">2</td> <td style="padding: 5px 10px;">10</td> <td style="padding: 5px 10px;">7</td> <td style="padding: 5px 10px;">1</td> <td style="padding: 5px 10px;">9</td> <td style="padding: 5px 10px;">6</td> </tr> </table> </div> <p>Regardez la ligne qui commence par le rond noir. Entourez le nombre 1. Allez-y.</p> <p>[Laisser les élèves chercher la réponse pendant 5 secondes. Répéter. Laisser 5 secondes Corriger sur l'exemple projeté ou au tableau.]</p> <p>Le nombre est ici. [Montrer le nombre 1.]</p> <p>Il fallait donc l'entourer. [Entourer le nombre 1.]</p> <p>Maintenant que vous avez compris, nous allons commencer. »</p> <p>[Procéder ainsi pour les nombres suivants. Laisser 5 secondes. Répéter. Laisser 5 secondes. Vérifier que les élèves progressent dans l'exercice.]</p>			2	10	7	1	9	6
2	10	7	1	9	6			

Page	Mettez votre doigt sur ...	[Répéter la consigne.]
19		Entourez le nombre 3.
		Entourez le nombre 5.
		Entourez le nombre 8.
		Entourez le nombre 2.
		Entourez le nombre 7.
20		Entourez le nombre 10.
		Entourez le nombre 6.
		Entourez le nombre 4.
		Entourez le nombre 9.
		Entourez le nombre 0.

« L'exercice est terminé. Tournez la page, vous êtes à la page 21. »

Exercice 5

<input checked="" type="radio"/>	2	10	7	1	9	6
----------------------------------	---	----	---	---	---	---

<input type="radio"/>	0	6	3	2	5	1
-----------------------	---	---	---	---	---	---


<input type="checkbox"/>	7	4	1	3	5	2
--------------------------	---	---	---	---	---	---

<input type="checkbox"/>	2	8	6	0	10	9
--------------------------	---	---	---	---	----	---

<input type="checkbox"/>	1	10	0	6	8	2
--------------------------	---	----	---	---	---	---


<input type="checkbox"/>	7	1	2	10	5	3
--------------------------	---	---	---	----	---	---

Exercice 5 (suite)

 0 2 9 10 1 7

 0 6 3 2 5 1

 7 4 1 3 5 2

 2 8 6 0 10 9

 0 2 9 10 1 7